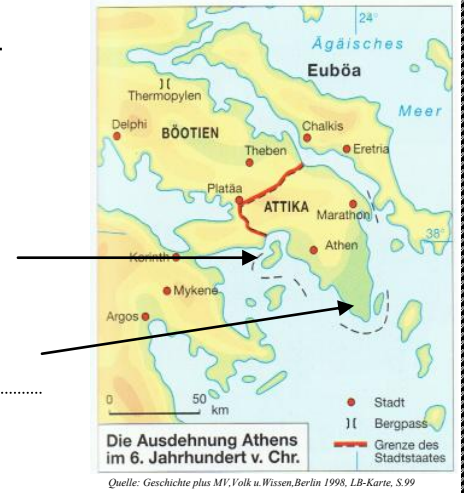


Thema: Der Aufstieg der Polis Athen

1. Lage des Stadtstaates:

.....

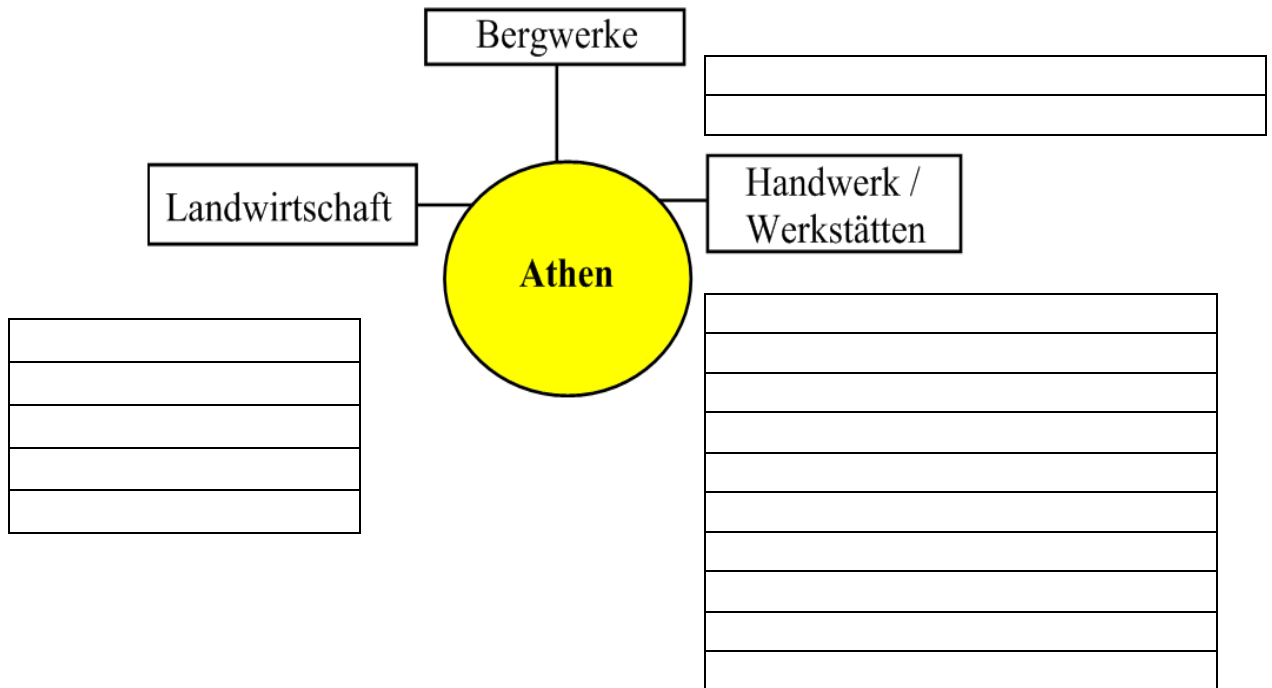
.....



2. Athen als Handelsstaat

LB Karte S. 116

a) Was wurde in Athen produziert? Ordne die Produkte aus der LB Karte S.116 richtig zu!



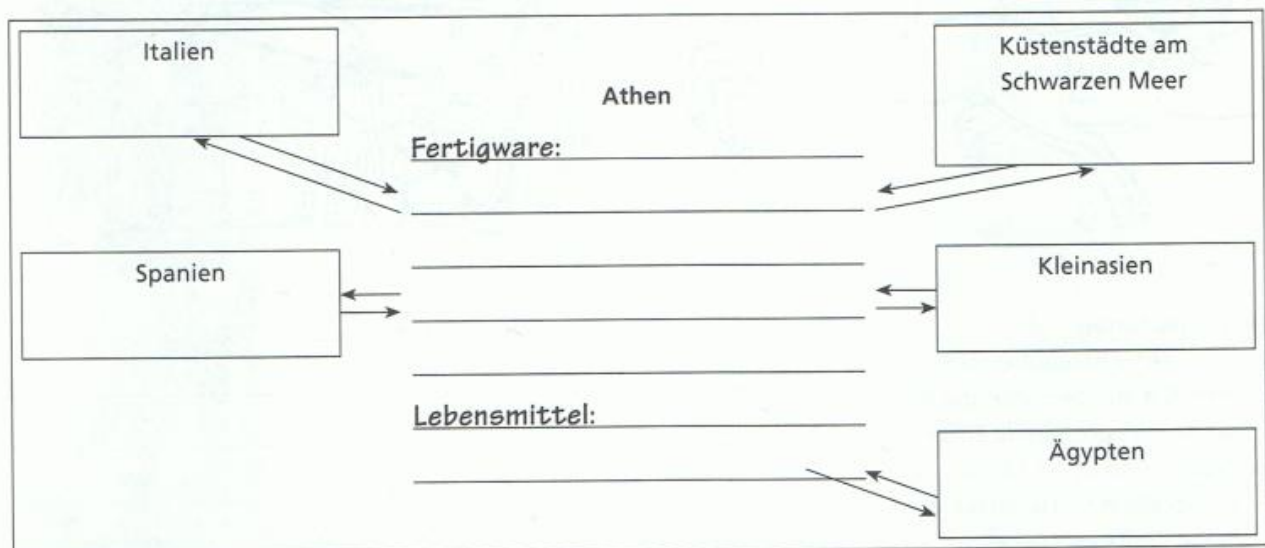
LB S. 116 Text „Athen wird Handelsmittelpunkt“

b) Trage in das Schaubild ein, welche Güter in Athen erzeugt und dann ausgeführt wurden –die **Exporte!**

Welche der in Athen erzeugten Güter ließen sich unter „Fertigwaren“ zusammenfassen?

c) Trage ebenfalls ein, welche Güter die Handelspartner Athens lieferten- die **Importe!**

Quelle: Die Reise in die Vergangenheit MV Arbeitsheft 6, Westermann



3. Vom Tauschhandel zur Geldwirtschaft

Quelle: Die Reise in die Vergangenheit MV Arbeitsheft 6, Westermann



Diese Bildfolge macht deutlich, wie sich der Handel im Laufe der Jahrhunderte veränderte. Schreibe zu jedem Bild Stichworte, die die Art und Weise des Handels beschreiben.

Wo mag wohl die Münze auf der dritten Abbildung geprägt worden sein? Der Name der Stadt ist abgekürzt wiedergegeben, und es gibt ein Sprichwort:

„Eulen nach _____ tragen.“

Name des Schülers